
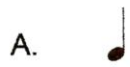


6. Di antara berikut yang manakah merupakan not **Minim** ?



7. Pilih pasangan yang betul .



8. Antara berikut not yang manakah mempunyai nilai yang paling besar ?

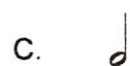
A. Krocet

B. Minim

C. Semibrif

D. Minim bertitik

9. Not yang bernilai 3 ialah



10.  ialah tanda rehat untuk not

- A. Semibrif
- B. Krocet
- C. Minim
- D. Minim Bertitik

11. Apakah nama tanda  ?

- A. Flet
- B. Klef Trebel
- C. Klef Bass
- D. Syap

Soalan 12 & 13 adalah berpandukan turutan solfa berikut :




12. Solfa yang berada di **X** ialah

- A. RE
- B. MI
- C. DO
- D. LA

13. Solfa yang berada di **Y** ialah

- A. DO
- B. MI
- C. SO
- D. RE

14.




Rajah 1

Rajah 1 menunjukkan isyarat tangan solfa untuk

- A. Do
- B. Re
- C. Mi
- D. Fa

15.




Rajah 2

Nyatakan isyarat tangan solfa bagi rajah 2.

- A. Do
- B. Re
- C. Mi
- D. Fa

Soalan 16 hingga 20 sila rujuk gambarajah di bawah.



16. Tanda $\frac{2}{4}$ menunjukkan

- A. Meter $\frac{2}{4}$
- B. Pecahan $\frac{2}{4}$
- C. Nilai $\frac{2}{4}$
- D. Not $\frac{2}{4}$

17. Terdapat berapakah not krocet pada rajah di atas ?

- A. 2
- B. 3
- C. 4
- D. 1

18. Apakah makna meter $\frac{2}{4}$?

- A. Terdapat 2 Minim dalam satu bar
- B. Terdapat 4 Krocet dalam satu bar
- C. Terdapat 2 Krocet dalam satu bar
- D. Terdapat 4 Minim dalam satu bar


19. Garisan yang ditunjukkan dengan anak panah  ialah

- A. Garis penamat
- B. Garis bar
- C. Garis permulaan
- D. Garis muzik

20. Terdapat berapa bar kesemuanya dalam gambarajah di atas ?

- A. 1
- B. 2
- C. 3
- D. 4

Soalan 21 hingga 23 adalah berpandukan rajah 3 di bawah.



Rajah 3

21. Apakah nama alat muzik di atas ?

- | | |
|-------------|--------------|
| A. Tamborin | B. Kastanet |
| C. Loceng | D. Kerincing |

22. Alat muzik tersebut dimainkan dengan cara

- | | |
|------------|----------|
| A. Ketuk | B. Tepuk |
| C. Goncang | D. Petik |

23. Alat Muzik di atas diperbuat daripada

- | | |
|----------|----------|
| A. Kayu | B. Kulit |
| C. Getah | D. Besi |

24. Pilih pasangan yang betul.

- | | | |
|--------------|------|---------|
| A. Kastanet | ---- | goncang |
| B. Kerincing | ---- | tebuk |
| C. Gitar | ---- | petik |
| D. Kompang | ---- | gesek |

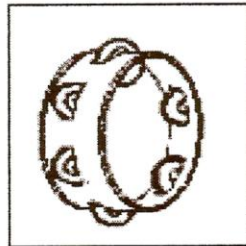
25. Di antara berikut yang manakah merupakan alat muzik yang dimainkan secara tiupan ?

- A. Piano
- B. Rekoder
- C. Gitar
- D. Kompang

26. Kompang biasanya dimainkan semasa

- A. Majlis perkahwinan
- B. Kematian
- C. Persembahan koir
- D. Nyanyian lagu rasmi

Soalan 27 & 28 adalah berpandukan rajah 4 di bawah.



Rajah 4

27. Namakan alat muzik di atas.

- A. Tamborin
- B. Kerincing
- C. Kastanet
- D. Loceng

28. Alat muzik di atas biasanya dimainkan dengan cara

- A. Ketuk atau tiup
- B. Tiup atau petik
- C. Goncang atau tepuk
- D. Gesek atau goncang


29. Berikut merupakan alat muzik tradisional **KEQUALI**

- A. Rebana
- B. Kompang
- C. Rekoder
- D. Gong

30. Di antara berikut yang manakah merupakan alat muzik **bertali** ?

- A. Piano
- B. Gitar
- C. Trumpet
- D. Marakas

31. Namakan alat muzik yang ditunjukkan dalam rajah 5



Rajah 5

- A. Gitar
- B. Kibod
- C. Piano
- D. Dram

32. Alat muzik di atas di mainkan dengan cara

- A. Tiupan
- B. Gesekan
- C. Pukulan
- D. Tepukan

Soalan 42 hingga 45 Nyatakan not –not berikut

42.




- | | |
|-----------|-----------|
| A. Not F | B. Not A |
| C. Not C' | D. Not E' |

43.




- | | |
|----------|----------|
| A. Not F | B. Not D |
| C. Not B | D. Not G |

44.



- | | |
|-----------|-----------|
| A. Not F | B. Not A |
| C. Not C' | D. Not E' |

45.



- | | |
|-----------|----------|
| A. Not F | B. Not A |
| C. Not C' | D. Not E |

